

**VUmc\_CAT\_SSR\_B15\_2018-03-02\_inzage**

Monday, February 26, 2018 12:14

Block 1, 50 question(s), maximum score 50  
CAT SSR B15 02-03-2018 INZAGE**1 of 50**

Security Briefing : Briefing

LC : y

Test name : Test 1 or 2

Difficulty : CTT Level

PorterGamGad : include

Welke uitspraak over het hormoon LH is juist?

- Het is noodzakelijk voor spermatogenese.
- Het stimuleert de afgifte van GnRH door de hypothalamus.
- Het inhibeert de afgifte van FSH door de hypofyse.
- Het is een steroïdhormoon.

IF choice c. is selected  
Set score to 0

Fout.

Juiste antwoord: 'Het is noodzakelijk voor spermatogenese.'

IF choice b. is selected  
Set score to 0

Fout.

Juiste antwoord: 'Het is noodzakelijk voor spermatogenese.'

IF choice a. is selected  
Set score to 1

Goed.

IF choice d. is selected  
Set score to 0

Fout.

Juiste antwoord: 'Het is noodzakelijk voor spermatogenese.'

**2 of 50**

Security Briefing : Briefing

LC : y

Test name : Test 1 or 2

Difficulty : CTT Level

PorterGamGad : include

Wat is een effect van de sterke stijging van de plasmaspiegels van progesteron tijdens de menstruele cyclus?

- remming van de productie van oestrogeen door het corpus luteum
- remming van de afgifte van GnRH door de hypothalamus
- stimulatie van de productie van oestrogeen door het corpus luteum
- stimulatie van proliferatie van het endometrium

IF choice d. is selected  
Set score to 0

Fout.

Juiste antwoord: 'remming van de afgifte van GnRH door de hypothalamus'

IF choice b. is selected  
Set score to 1

Goed.

IF choice c. is selected  
Set score to 0

Fout.

Juiste antwoord: 'remming van de afgifte van GnRH door de hypothalamus'

---

IF choice a. is selected  
Set score to 0

Fout.

Juiste antwoord: 'remming van de afgifte van GnRH door de hypothalamus'

### 3 of 50

Security Briefing : Briefing

LC : y

Test name : Test 1 or 2

Difficulty : CTT Level

PorterGamGad : include

Wat is de belangrijkste factor in het proces van vasocongestie van de clitoris?

- stikstofoxide (NO)
  - acetylcholine
  - noradrenaline
  - gamma-aminoboterzuur (GABA)
- 

IF choice a. is selected  
Set score to 1

Goed.

---

IF choice b. is selected  
Set score to 0

Fout.

Juiste antwoord: 'stikstofoxide (NO)'

---

IF choice d. is selected  
Set score to 0

Fout.

Juiste antwoord: 'stikstofoxide (NO)'

---

IF choice c. is selected  
Set score to 0

Fout.

Juiste antwoord: 'stikstofoxide (NO)'

### 4 of 50

Security Briefing : Briefing

LC : y

Test name : Test 1 or 2

Difficulty : CTT Level

PorterGamGad : include

Een 17-jarige vrouw heeft nog niet gemenstrueerd (primaire amenorroe) en het vermoeden bestaat dat er sprake is van het syndroom van complete androgeen-ongevoeligheid.

Wat zal dan gevonden worden wanneer de buikholtte echografisch onderzocht wordt?

- normale ovaria
  - testes die niet ingedaald zijn
  - een uterus zonder opening naar de vagina
  - kleine ovaria zonder eileiders
- 

IF choice c. is selected  
Set score to 0

Fout.

Juiste antwoord: 'testes die niet ingedaald zijn'

---

IF choice d. is selected  
Set score to 0

Fout.

Juiste antwoord: 'testes die niet ingedaald zijn'

---

IF choice b. is selected  
Set score to 1

Goed.

---

IF choice a. is selected  
Set score to 0

Fout.

Juiste antwoord: 'testes die niet ingedaald zijn'

### 5 of 50

Security Briefing : Briefing

LC : y

Test name : Test 1 or 2

Difficulty : CTT Level

PorterGamGad : include

Bij een pasgeboren baby met XX genotype en ambigue genitalia wordt een hoge androgeen spiegel gevonden. Welke van de volgende bevindingen hoort bij dit beeld?

- een gedeeltelijke ongevoeligheid van de androgeenreceptor
- een verhoogde spiegel van ACTH
- een verhoogde spiegel van cortisol
- een gedeeltelijke ongevoeligheid van de oestrogeenreceptor

---

IF choice b. is selected  
Set score to 1

Goed.

---

IF choice a. is selected  
Set score to 0

Fout.

Juiste antwoord: 'een verhoogde spiegel van ACTH'

---

IF choice c. is selected  
Set score to 0

Fout.

Juiste antwoord: 'een verhoogde spiegel van ACTH'

---

IF choice d. is selected  
Set score to 0

Fout.

Juiste antwoord: 'een verhoogde spiegel van ACTH'

### 6 of 50

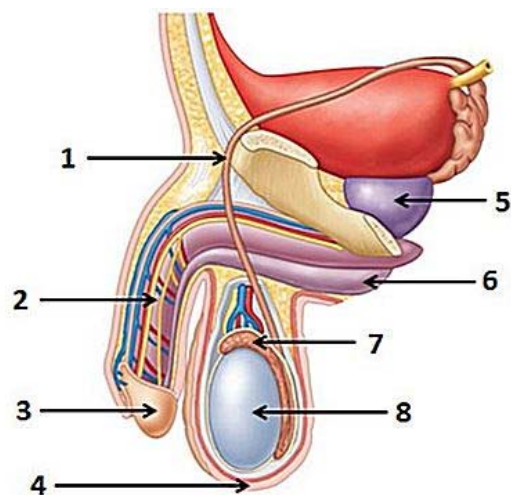
Security Briefing : Briefing

LC : y

Test name : Test 1 or 2

Difficulty : CTT Level

PorterGamGad : include



Bron: Moore et al. Essential Clinical Anatomy 5th ed. Wolters Kluwer 2015

Met welk nummer worden de volgende structuren aangeduid?

- epididymis  (i) 1  (ii) 2  (iii) 3  (iv) 4  (v) 5  (vi) 6  (vii) 7  (viii) 8
- ductus deferens  (i) 1  (ii) 2  (iii) 3  (iv) 4  (v) 5  (vi) 6  (vii) 7  (viii) 8
- prostaat  (i) 1  (ii) 2  (iii) 3  (iv) 4  (v) 5  (vi) 6  (vii) 7  (viii) 8

IF choice a. matches "7"  
 AND choice b. matches "1"  
 AND choice c. matches "5"  
 Set score to 1

Goed.

Anything else  
 No score defined.

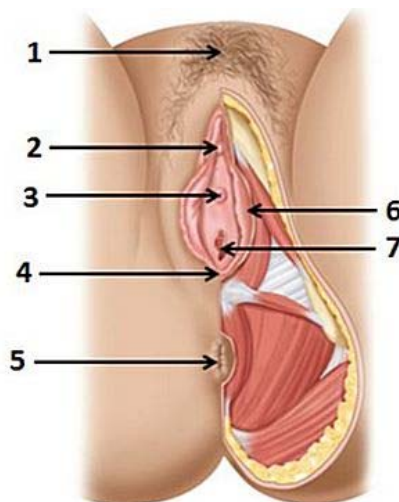
Fout.

Juiste antwoord:

- epididymis - 7
- ductus deferens - 1
- prostaat - 5

**7 of 50**

Security Briefing : Briefing  
 LC : y  
 Test name : Test 1 or 2  
 Difficulty : CTT Level  
 PorterGamGad : include



Bron: Moore et al. Essential Clinical Anatomy 5th ed. Wolters Kluwer 2015

Met welk nummer worden de volgende structuren aangeduid?

- clitoris   (i) 1.  (ii) 2.  (iii) 3.  (iv) 4.  (v) 5.  (vi) 6.  (vii) 7.
- mons pubis   (i) 1.  (ii) 2.  (iii) 3.  (iv) 4.  (v) 5.  (vi) 6.  (vii) 7.
- vagina opening (introitus)   (i) 1.  (ii) 2.  (iii) 3.  (iv) 4.  (v) 5.  (vi) 6.  (vii) 7.

IF choice a. matches "2."  
AND choice b. matches "1."  
AND choice c. matches "7."  
Set score to 1

Goed.

Anything else  
No score defined.

Fout.

Juiste antwoord:

- clitoris - 2
- mons pubis - 1
- vagina opening (introitus) - 7

### 8 of 50

Security Briefing : Briefing  
LC : y  
Test name : Test 1 or 2  
Difficulty : CTT Level  
PorterGamGad : include

Van welke spieren of structuren zijn de lagen van de funiculus spermaticus afkomstig?

- fascia cremasterica   (i) fascia transversalis  (ii) m. obliquus externus abdominis  (iii) m. obliquus internus abdominis  (iv) m. rectus abdominis  (v) m. transversus abdominis
- fascia spermatica interna   (i) fascia transversalis  (ii) m. obliquus externus abdominis  (iii) m. obliquus internus abdominis  (iv) m. rectus abdominis  (v) m. transversus abdominis

IF choice a. matches "m. obliquus internus abdominis"  
AND choice b. matches "fascia transversalis"  
Set score to 1

Goed.

Anything else  
No score defined.

Fout.

Juiste antwoord:

- fascia cremasterica - m. obliquus internus abdominis
- fascia spermatica interna - fascia transversalis

### 9 of 50

Security Briefing : Briefing  
LC : y  
Test name : Test 1 or 2  
Difficulty : CTT Level  
PorterGamGad : include

Welke structuren bevinden zich in de funiculus spermaticus?  
Kies drie juiste antwoorden.

- a. pudenda externa
- a. testicularis
- ductus deferens
- ductus lactiferi
- epididymis
- n. ilio-inguinalis
- plexus pampiniformis
- ureter

IF choice a. is NOT selected  
AND choice b. is selected  
AND choice c. is selected  
AND choice d. is NOT selected

AND choice e. is NOT selected  
 AND choice f. is NOT selected  
 AND choice g. is selected  
 AND choice h. is NOT selected  
 Set score to 1

Goed.

Anything else  
 No score defined.

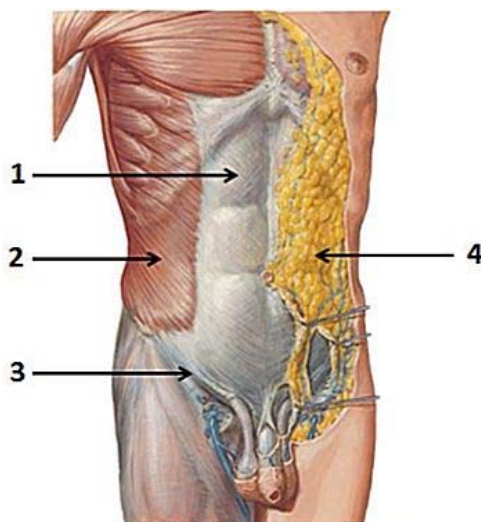
Fout.

Juiste antwoord:

- a. testicularis
- ductus deferens
- plexus pampiniformis

**10 of 50**

Security Briefing : Briefing  
 LC : y  
 Test name : Test 1 or 2  
 Difficulty : CTT Level  
 PorterGamGad : include



Bron: Atlas of Human Anatomy. Netter. 2nd ed. 1997

Welke structuren worden met de nummers aangeduid?

- 1  (i) \_fascia van Scarpa     (ii) \_ligamentum inguinale     (iii) \_linea alba     (iv) \_m. obliquus externus abdominis     (v) \_m. obliquus internus abdominis     (vi) \_rectusschede
- 2  (i) \_fascia van Scarpa     (ii) \_ligamentum inguinale     (iii) \_linea alba     (iv) \_m. obliquus externus abdominis     (v) \_m. obliquus internus abdominis     (vi) \_rectusschede
- 3  (i) \_fascia van Scarpa     (ii) \_ligamentum inguinale     (iii) \_linea alba     (iv) \_m. obliquus externus abdominis     (v) \_m. obliquus internus abdominis     (vi) \_rectusschede
- 4  (i) \_fascia van Scarpa     (ii) \_ligamentum inguinale     (iii) \_linea alba     (iv) \_m. obliquus externus abdominis     (v) \_m. obliquus internus abdominis     (vi) \_rectusschede

IF choice a. matches "\_rectusschede"  
 AND choice b. matches "\_m. obliquus externus abdominis"  
 AND choice c. matches "\_ligamentum inguinale"  
 AND choice d. matches "\_fascia van Scarpa"  
 Set score to 1

Goed.

Anything else  
 No score defined.

Fout.

Juiste antwoord:

- 1 - rectusschede
- 2 - m. obliquus externus abdominis

- 3 - ligamentum inguinale
- 4 - fascia van Scarpa

**11 of 50**

Security Briefing : Briefing

LC : y

Test name : Test 1 or 2

Difficulty : CTT Level

PorterGamGad : include

Van welke embryonale structuur is het ligamentum teres uteri een overblijfsel?

- gang van Wolff
- sinus urogenitalis
- somatic support cells
- indifferente gonade
- gubernaculum
- tuberculum genitale

---

 IF choice e. is selected  
 Set score to 1

Goed.

---

 IF choice f. is selected  
 Set score to 0

Fout.

Juiste antwoord: 'gubernaculum'

---

 IF choice c. is selected  
 Set score to 0

Fout.

Juiste antwoord: 'gubernaculum'

---

 IF choice d. is selected  
 Set score to 0

Fout.

Juiste antwoord: 'gubernaculum'

---

 IF choice a. is selected  
 Set score to 0

Fout.

Juiste antwoord: 'gubernaculum'

---

 IF choice b. is selected  
 Set score to 0

Fout.

Juiste antwoord: 'gubernaculum'

**12 of 50**

Security Briefing : Briefing

LC : y

Test name : Test 1 or 2

Difficulty : CTT Level

PorterGamGad : include

Geef aan waar de volgende structuren uit ontstaan zijn:

- |                 |                                     |  |  |   |  |   |
|-----------------|-------------------------------------|--|--|---|--|---|
| ductus deferens | <input checked="" type="checkbox"/> | <input type="radio"/> (i) gubernaculum | <input type="radio"/> (ii) indifferente gonade | <input type="radio"/> (iii) labioscrotale wal | <input type="radio"/> (iv) mesonephrosgang | <input type="radio"/> (v) paramesonephrosgang |
| epididymis      | <input checked="" type="checkbox"/> | <input type="radio"/> (i) gubernaculum | <input type="radio"/> (ii) indifferente gonade | <input type="radio"/> (iii) labioscrotale wal | <input type="radio"/> (iv) mesonephrosgang | <input type="radio"/> (v) paramesonephrosgang |
| uterus          | <input checked="" type="checkbox"/> | <input type="radio"/> (i) gubernaculum | <input type="radio"/> (ii) indifferente gonade | <input type="radio"/> (iii) labioscrotale wal | <input type="radio"/> (iv) mesonephrosgang | <input type="radio"/> (v) paramesonephrosgang |

## paramesonephrosgang

---

IF choice a.(iv) is selected  
AND choice b.(iv) is selected  
AND choice c.(v) is selected  
Add 1 to score. Continue evaluating.

Goed.

---

Anything else  
No score defined.

Fout.

Juiste antwoord:

- ductus deferens - mesonephrosgang
- epididymis - mesonephrosgang
- uterus - paramesonephrosgang

**13 of 50**

Security Briefing : Briefing  
LC : y  
Test name : Test 1 or 2  
Difficulty : CTT Level  
PorterGamGad : include

In de directe diagnostiek van fluor vaginalis wordt vaak gebruik gemaakt van 10% kaliumhydroxide (KOH): daarbij wordt een beetje fluor gemengd met een paar druppels KOH.  
Wat gebeurt er bij het mengen in het geval van een dysbacteriose?

- Er vormen zich pseudohyfen.  
 Er treedt een verhoging op van de pH.  
 Er ontstaan amines.  
 Er treedt klontering (coagulatie) op.

---

IF choice c. is selected  
Set score to 1

goed.

---

IF choice a. is selected  
Set score to 0

Fout.

Juiste antwoord: 'Er ontstaan amines.'

---

IF choice b. is selected  
Set score to 0

Fout.

Juiste antwoord: 'Er ontstaan amines.'

---

IF choice d. is selected  
Set score to 0

Fout.

Juiste antwoord: 'Er ontstaan amines.'

**14 of 50**

Security Briefing : Briefing  
LC : y  
Test name : Test 1 or 2  
Difficulty : CTT Level  
PorterGamGad : include





Bron: [www2a.cdc.gov/stdtraining/self-study/syphilis/syphilis\\_slide\\_condylomata\\_lata.html](http://www2a.cdc.gov/stdtraining/self-study/syphilis/syphilis_slide_condylomata_lata.html)

De wratten bij deze patiënt worden veroorzaakt door

- Treponema pallidum* of humaan papilloma virus (HPV)
- humaan papilloma virus (HPV)
- Treponema pallidum*
- Herpes simplex virus (HSV)

---

IF choice d. is selected  
Set score to 0

Fout.

Juiste antwoord: '*Treponema pallidum* of humaan papilloma virus (HPV)'

---

IF choice c. is selected  
Set score to 0

Fout.

Juiste antwoord: '*Treponema pallidum* of humaan papilloma virus (HPV)'

---

IF choice b. is selected  
Set score to 0

Fout.

Juiste antwoord: '*Treponema pallidum* of humaan papilloma virus (HPV)'

---

IF choice a. is selected  
Set score to 1

Goed.

#### 15 of 50

Security Briefing : Briefing  
LC : y  
Test name : Test 1 or 2  
Difficulty : CTT Level  
PorterGamGad : include

Een 40-jarige man heeft sinds 3 weken een pijnloze lesie (een soort zweertje) op zijn penis.  
Welke diagnostiek is nu mogelijk om binnen 10 minuten te weten om welke verwekker het hier gaat?

- Giemsa-preparaat
- Fysiologisch zoutpreparaat
- Donkerveldpreparaat
- Grampreparaat

---

IF choice d. is selected  
Set score to 0

Fout.

Juiste antwoord: 'Donkerveldpreparaat'

---

IF choice b. is selected  
Set score to 0

Fout.

Juiste antwoord: 'Donkerveldpreparaat'

---

IF choice c. is selected  
Set score to 1

Goed.

---

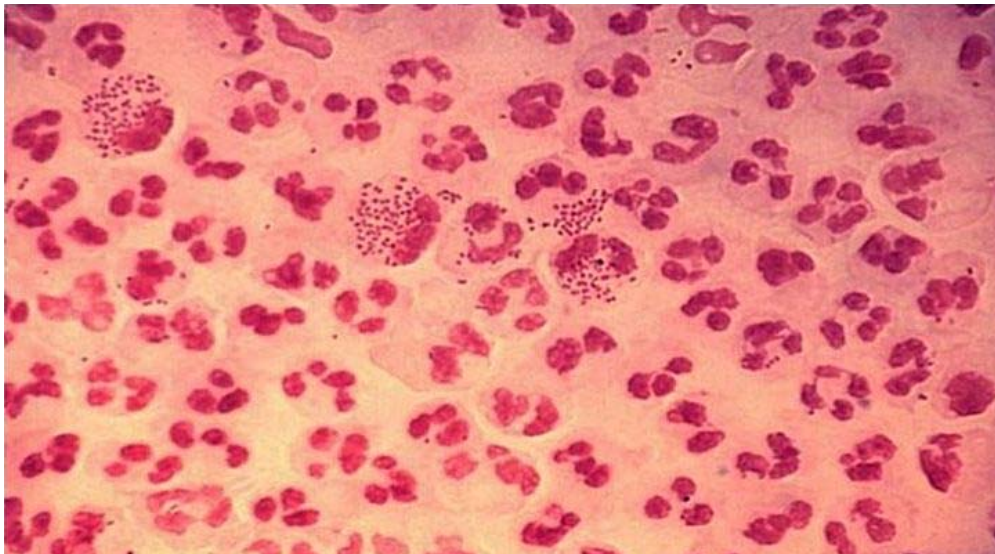
IF choice a. is selected  
Set score to 0

Fout.

Juiste antwoord: 'Donkerveldpreparaat'

#### 16 of 50

Security Briefing : Briefing  
LC : y  
Test name : Test 1 or 2  
Difficulty : CTT Level  
PorterGamGad : include



Bron: [slideshare.net/DanaSinzianaBreharCI/](https://slideshare.net/DanaSinzianaBreharCI/)

Een 22-jarige man heeft wat uitvloed uit zijn penis. Er wordt een Grampreparaat van gemaakt. Wat is de meest waarschijnlijke verwekker?

- Treponema pallidum*
  - Trichomonas vaginalis*
  - Neisseria gonorrhoeae*
  - Chlamydia trachomatis*
- 

IF choice c. is selected  
Set score to 1

goed.

---

IF choice b. is selected  
Set score to 0

Fout.

Juiste antwoord: '*Neisseria gonorrhoeae*'

---

IF choice d. is selected  
Set score to 0

Fout.

Juiste antwoord: '*Neisseria gonorrhoeae*'

---

IF choice a. is selected  
Set score to 0

Fout.

Juiste antwoord: '*Neisseria gonorrhoeae*'

---

### 17 of 50

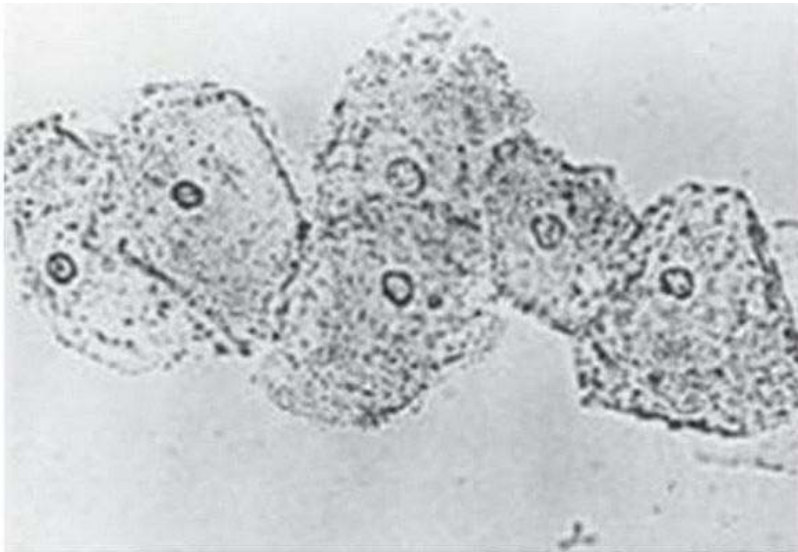
Security Briefing : Briefing

LC : y

Test name : Test 1 or 2

Difficulty : CTT Level

PorterGamGad : include



Bron: VUmc lab MMI

Dit is een fysiologisch zout preparaat van de fluor vaginalis van een 20-jarige vrouw. De amine-test is positief en de pH van de afscheiding is 5,2. Wat is de meest waarschijnlijke diagnose?

- Candida* vaginitis
- Chlamydia trachomatis*
- Dysbacteriose
- Fysiologische fluor

---

IF choice a. is selected  
Set score to 0

Fout.

Juiste antwoord: 'Dysbacteriose'

---

IF choice d. is selected  
Set score to 0

Fout.

Juiste antwoord: 'Dysbacteriose'

---

IF choice c. is selected  
Set score to 1

Goed.

---

IF choice b. is selected  
Set score to 0

Fout.

Juiste antwoord: 'Dysbacteriose'

18 of 50

Security Briefing : Briefing

LC : y

Test name : Test 1 or 2

Difficulty : CTT Level

PorterGamGad : include

Match het seksueel overdraagbare micro-organisme met het/de meest passende sympto(o)m(en).

- Herpes simplex type 2  (i) aneurysma aortae  (ii) condylomata acuminata  (iii) genitale blaasjes  (iv) secundaire pyodermie  (v) urethritis bij de man
- Humaan papillomavirus  (i) aneurysma aortae  (ii) condylomata acuminata  (iii) genitale blaasjes  (iv) secundaire pyodermie  (v) urethritis bij de man
- Schurftmijt (scabies)  (i) aneurysma aortae  (ii) condylomata acuminata  (iii) genitale blaasjes  (iv) secundaire pyodermie  (v) urethritis bij de man
- Treponema pallidum*  (i) aneurysma aortae  (ii) condylomata acuminata  (iii) genitale blaasjes  (iv) secundaire pyodermie  (v) urethritis bij de man
- Trichomonas vaginalis*  (i) aneurysma aortae  (ii) condylomata acuminata  (iii) genitale blaasjes  (iv) secundaire pyodermie  (v) urethritis bij de man

IF choice a. matches "genitale blaasjes"  
 AND choice b. matches "condylomata acuminata"  
 AND choice c. matches "secundaire pyodermie"  
 AND choice d. matches "aneurysma aortae"  
 AND choice e. matches "urethritis bij de man"  
 Set score to 1

Goed.

Anything else  
 No score defined.

Fout.

Juiste antwoord:

- Herpes simplex type 2 - genitale blaasjes
- Humaan papillomavirus - condylomata acuminata
- Schurftmijt (scabies) - secundaire pyodermie
- *Treponema pallidum* - aneurysma aortae
- *Trichomonas vaginalis* - urethritis bij de man

19 of 50

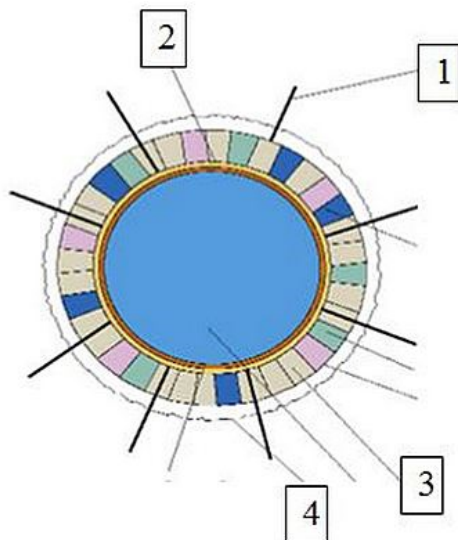
Security Briefing : Briefing

LC : y

Test name : Test 1 or 2

Difficulty : CTT Level

PorterGamGad : include



*Neisseria gonorrhoeae* heeft een aantal virulentiefactoren.  
Waar horen deze virulentiefactoren bij in het getekende schema van de bacterie?

- 1   (i) eiwitten  (ii) kapsel  (iii) peptidoglycaan  (iv) pili  
 2   (i) eiwitten  (ii) kapsel  (iii) peptidoglycaan  (iv) pili  
 3   (i) eiwitten  (ii) kapsel  (iii) peptidoglycaan  (iv) pili  
 4   (i) eiwitten  (ii) kapsel  (iii) peptidoglycaan  (iv) pili

---

IF choice a. matches "pili"  
 AND choice b. matches "peptidoglycaan"  
 AND choice c. matches "eiwitten"  
 AND choice d. matches "kapsel"  
 Set score to 1

Goed.

Anything else  
 No score defined.

Fout.

Juiste antwoord:

- 1 - pili
- 2 - peptidoglycaan
- 3 - eiwitten
- 4 - kapsel

#### 20 of 50

Security Briefing : Briefing  
 LC : y  
 Test name : Test 1 or 2  
 Difficulty : CTT Level  
 PorterGamGad : include

Een 35-jarige man heeft genitale jeuk. Bij visuele inspectie is er behalve een lichte blauwige verkleuring van de mons pubis niets te zien.  
 Wat is de meest waarschijnlijke verwekker?

- Genitale wratten.  
 Schaamluis  
 Schurft  
 Herpes genitalis

---

IF choice b. is selected  
 Set score to 1

Goed.

IF choice c. is selected  
 Set score to 0

Fout.

Juiste antwoord: 'Schaamluis'

---

IF choice d. is selected  
 Set score to 0

Fout.

Juiste antwoord: 'Schaamluis'

---

IF choice a. is selected  
 Set score to 0

Fout.

Juiste antwoord: 'Schaamluis'

#### 21 of 50

Security Briefing : Briefing  
 LC : y  
 Test name : Test 1 or 2  
 Difficulty : CTT Level

PorterGamGad : include

In de praktijk kan gebruik worden gemaakt van de menstruatiescorekaart (pbac) om de klacht van hevig menstrueel bloedverlies (HMB) te objectiveren. Welk afkappunt (in milliliter bloedverlies) wordt hierbij aangehouden om een onderscheid te kunnen maken tussen normaal en hevig menstrueel bloedverlies?

- 55
- 100
- 155
- 200

---

IF choice a. is selected  
Set score to 0

Fout.

Juiste antwoord: '155'

---

IF choice b. is selected  
Set score to 0

Fout.

Juiste antwoord: '155'

---

IF choice c. is selected  
Set score to 1

Goed.

---

IF choice d. is selected  
Set score to 0

Fout.

Juiste antwoord: '155'

## 22 of 50

Security Briefing : Briefing

LC : y

Test name : Test 1 or 2

Difficulty : CTT Level

PorterGamGad : include

Voor de behandeling van een vleesboom / myoom als oorzaak van HMB (hevig menstrueel bloedverlies) kan worden besloten tot het verrichten van een TCRM (Trans Cervicale Myoom Resectie).

Welk type myoom komt met name in aanmerking voor deze behandeling?

- intramuraal myoom
- sub-muceus myoom
- sub-sereus myoom
- alle genoemde myoom typen

---

IF choice b. is selected  
Set score to 1

Goed.

---

IF choice c. is selected  
Set score to 0

Fout.

Juiste antwoord: 'sub-muceus myoom'

---

IF choice a. is selected  
Set score to 0

Fout.

Juiste antwoord: 'sub-muceus myoom'

---

IF choice d. is selected  
Set score to 0

Fout.

Juiste antwoord: 'sub-muceus myoom'

**23 of 50**

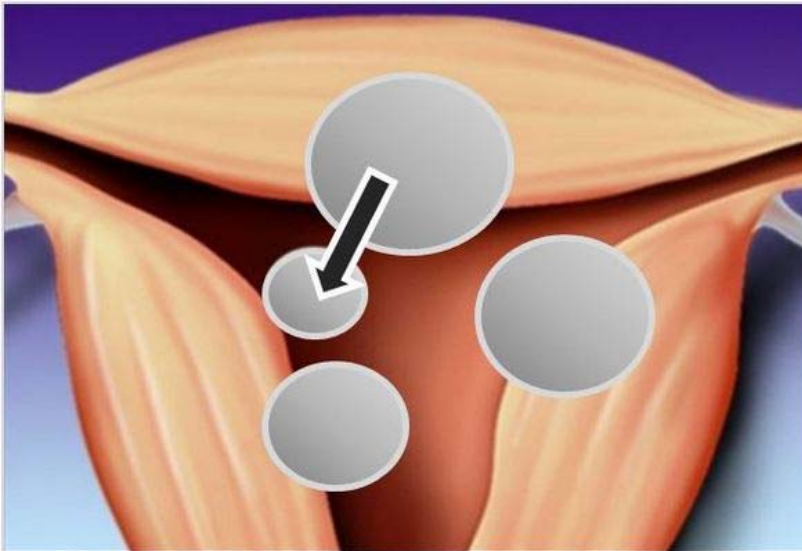
Security Briefing : Briefing

LC : y

Test name : Test 1 or 2

Difficulty : CTT Level

PorterGamGad : include



Hoe wordt het myoom bij de zwarte pijl genoemd wanneer de classificatie van de ESGE wordt gebruikt?

- sub-muceus Type 0 myoom
- sub-muceus Type 1 myoom
- sub-muceus Type 2 myoom
- sub-muceus Type 3 myoom

---

IF choice a. is selected  
Set score to 1

Goed.

---

IF choice b. is selected  
Set score to 0

Fout.

Juiste antwoord: 'sub-muceus Type 0 myoom'

---

IF choice c. is selected  
Set score to 0

Fout.

Juiste antwoord: 'sub-muceus Type 0 myoom'

---

IF choice d. is selected  
Set score to 0

Fout.

Juiste antwoord: 'sub-muceus Type 0 myoom'

**24 of 50**

Security Briefing : Briefing

LC : y

Test name : Test 1 or 2

Difficulty : CTT Level



PorterGamGad : include

Een patiënt vertelt de huisarts: Mijn man en ik vrijen steeds minder omdat ik sinds een jaar pijn bij het vrijen heb. Tijdens masturbatie heb ik hier geen last van. We zijn nu 20 jaar een paar en het vrijen ging prima. Mijn partner is gelukkig heel begripvol. Het seksuele probleem is

- primair en totaal
- secundair en totaal
- primair en situatief
- secundair en situatief

---

IF choice a. is selected  
Set score to 0

Fout.

Juiste antwoord: 'secundair en situatief'

---

IF choice b. is selected  
Set score to 0

Fout.

Juiste antwoord: 'secundair en situatief'

---

IF choice c. is selected  
Set score to 0

Fout.

Juiste antwoord: 'secundair en situatief'

---

IF choice d. is selected  
Set score to 1

Goed.

## 25 of 50

Security Briefing : Briefing

LC : y

Test name : Test 1 or 2

Difficulty : CTT Level

PorterGamGad : include

Een 65-jarige postmenopauzale vrouw met een blanco voorgeschiedenis meldt zich op de polikliniek gynaecologie met een langer bestaand verzakkingsgevoel / balgevoel.

Bij gynaecologisch onderzoek wordt tijdens Valslava manoeuvre de cervix uteri zichtbaar tot voorbij de introitus vaginae.

Er is hier sprake van een descensus uteri

- graad 1
- graad 2
- graad 3
- graad 4

---

IF choice a. is selected  
Set score to 0

Fout.

Juiste antwoord: 'graad 3'

---

IF choice b. is selected  
Set score to 0

Fout.

Juiste antwoord: 'graad 3'

---

IF choice c. is selected  
Set score to 1

Goed.



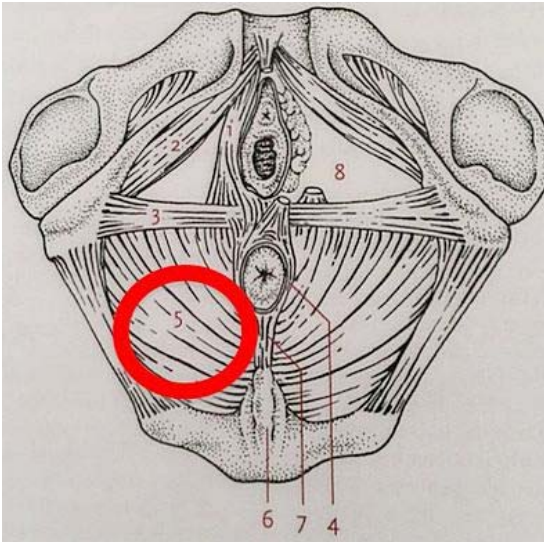
IF choice d. is selected  
Set score to 0

Fout.

Juiste antwoord: 'graad 3'

### 26 of 50

Security Briefing : Briefing  
LC : y  
Test name : Test 1 or 2  
Difficulty : CTT Level  
PorterGamGad : include



Welke spier wordt aangegeven bij nummer 5 (in de rode cirkel)?

- M. levator ani
- M. transversus perinei superficialis
- M. bulbocavernosus
- M. ischiocavernosus

IF choice c. is selected  
Set score to 0

Fout.

Juiste antwoord: 'M. levator ani'

IF choice b. is selected  
Set score to 0

Fout.

Juiste antwoord: 'M. levator ani'

IF choice d. is selected  
Set score to 0

Fout.

Juiste antwoord: 'M. levator ani'

IF choice a. is selected  
Set score to 1

Goed.

### 27 of 50

Security Briefing : Briefing

LC : y  
Test name : Test 1 or 2  
Difficulty : CTT Level  
PorterGamGad : include

Bij een 34-jarige vrouw met kinderwens wordt een diagnostische laparoscopie verricht in verband met acute hevige buikpijnklachten, meest waarschijnlijk op basis van een torsie van het linker adnex.

Welke pre-operatieve bevinding ondersteunt deze diagnose?

- peritoneale prikkeling bij onderzoek van de buik
- koorts > 39°C
- verhoogd CRP en leucocyten aantal
- opstootpijn naar rechts

---

IF choice c. is selected  
Set score to 0

Fout.

Juiste antwoord: 'peritoneale prikkeling bij onderzoek van de buik'

---

IF choice b. is selected  
Set score to 0

Fout.

Juiste antwoord: 'peritoneale prikkeling bij onderzoek van de buik'

---

IF choice a. is selected  
Set score to 1

Goed.

---

IF choice d. is selected  
Set score to 0

Fout.

Juiste antwoord: 'peritoneale prikkeling bij onderzoek van de buik'

### 28 of 50

Security Briefing : Briefing  
LC : y  
Test name : Test 1 or 2  
Difficulty : CTT Level  
PorterGamGad : include

Een 25-jarige vrouw, moeder van 2 kinderen, wordt 's nachts op de SEH gepresenteerd in verband met heftige buikpijn. De pijn is enkele dagen geleden rechts onder in de buik begonnen en sindsdien in ernst toegenomen waarbij nu de hele onderbuik pijnlijk is. Er is wat uitstraling van de pijn naar onder in de rug. Mevrouw is misselijk maar braakt niet. Mictie en defecatie blijken niet afwijkend. Er is sprake van een regelmatige menstruele cyclus. De laatste menstruatie is 3 dagen geleden gestopt.

De partner is gesteriliseerd.

Bij lichamelijk onderzoek wordt loslaatpijn over de gehele onderbuik vastgesteld en bij vaginaal toucher opstoot- en slingerpijn naar links en rechts.

Temperatuur (rectaal) 39,8°C.

Laboratorium onderzoek: CRP: 140, Leuco's: 16,3, zwangerschapstest: Negatief, Urine sediment: geen leuco's, nitriet negatief.

Wat is bij deze patiënte de meest waarschijnlijke diagnose?

- PID (Pelvic Inflammatory Disease)
- ovulatie bloeding
- appendicitis
- torsie van het rechter adnex

---

IF choice c. is selected  
Set score to 0

Fout.

Juiste antwoord: 'PID (Pelvic Inflammatory Disease)'

---

IF choice b. is selected  
Set score to 0

Fout.

Juiste antwoord: 'PID (Pelvic Inflammatory Disease)'

---

IF choice d. is selected  
Set score to 0

Fout.

Juiste antwoord: 'PID (Pelvic Inflammatory Disease)'

---

IF choice a. is selected  
Set score to 1

Goed.

### 29 of 50

Security Briefing : Briefing

LC : y

Test name : Test 1 or 2

Difficulty : CTT Level

PorterGamGad : include

Een zorgvuldige anamnese is van belang bij de evaluatie van (gynaecologische) buikpijn op basis van een SOA. Welke klachten zijn typisch voor een symptomatische gonorrhoe infectie?

- pijnlijke blaasjes in het genitaal gebied met lymfeklierzwellingen
- jeuk en vaginale pijnklachten
- contactbloedingen
- buikpijn, koorts en fluor vaginalis

---

IF choice d. is selected  
Set score to 1

Goed.

---

IF choice c. is selected  
Set score to 0

Fout.

Juiste antwoord: 'buikpijn, koorts en fluor vaginalis'

---

IF choice b. is selected  
Set score to 0

Fout.

Juiste antwoord: 'buikpijn, koorts en fluor vaginalis'

---

IF choice a. is selected  
Set score to 0

Fout.

Juiste antwoord: 'buikpijn, koorts en fluor vaginalis'

### 30 of 50

Security Briefing : Briefing

LC : y

Test name : Test 1 or 2

Difficulty : CTT Level

PorterGamGad : include

Wat is een kenmerk van het dopamine dysregulation syndroom dat gezien wordt bij de ziekte van Parkinson?

- seksuele aversie
- een verstoorde seksuele impulscontrole
- een verminderd seksueel verlangen
- een verminderde seksuele aantrekkling

---

IF choice b. is selected  
Set score to 1

Goed.

---

IF choice c. is selected  
Set score to 0

Fout.

Juiste antwoord: 'een verstoorde seksuele impulscontrole'

---

IF choice a. is selected  
Set score to 0

Fout.

Juiste antwoord: 'een verstoorde seksuele impulscontrole'

---

IF choice d. is selected  
Set score to 0

Fout.

Juiste antwoord: 'een verstoorde seksuele impulscontrole'

### 31 of 50

Security Briefing : Briefing

LC : y

Test name : Test 1 or 2

Difficulty : CTT Level

PorterGamGad : include

Een 62-jarige man wordt verwezen in verband met seksuele dysfunctie. Bij anamnese blijkt hij een normaal seksueel verlangen te hebben. Hij kan normaal een erectie krijgen maar penetratie doet hem pijn en de penis lijkt de laatste tijd krom te gaan staan naar rechts. Er is geen sprake geweest van trauma. Hij heeft geen noemenswaardige mictieklachten.

Van welke aandoening maakt deze meneer waarschijnlijk de actieve fase door?

- morbus de la Peyronie
- morbus Dupuytren
- Syphilis stadium I
- morbus Lederhosen

---

IF choice d. is selected  
Set score to 0

Fout.

Juiste antwoord: 'morbus de la Peyronie'

---

IF choice a. is selected  
Set score to 1

Goed.

---

IF choice b. is selected  
Set score to 0

Fout.

Juiste antwoord: 'morbus de la Peyronie'

---

IF choice c. is selected  
Set score to 0

Fout.

Juiste antwoord: 'morbus de la Peyronie'

### 32 of 50

Security Briefing : Briefing

LC : y

Test name : Test 1 or 2

Difficulty : CTT Level

PorterGamGad : include

Patiënten met chronische nierinsufficiëntie hebben vaak een verminderd seksueel verlangen. Waarschijnlijke oorzaken hiervoor kunnen zijn:  
(kies er drie)

- cardiovasculaire factoren  
 fibrose van het corpus cavernosum  
 medicatie  
 slechte conditie  
 verminderde levenskwaliteit ten gevolge van dialyse

---

IF choice a. is NOT selected  
 AND choice b. is NOT selected  
 AND choice c. is selected  
 AND choice d. is selected  
 AND choice e. is selected  
 Set score to 1

Goed.

---

Anything else  
 No score defined.

Fout.

Juiste antwoord:

- medicatie
- slechte conditie
- verminderde levenskwaliteit ten gevolge van dialyse

### 33 of 50

Security Briefing : Briefing  
 LC : y  
 Test name : Test 1 or 2  
 Difficulty : CTT Level  
 PorterGamGad : include

Een 58-jarige vrouw wordt verwezen in verband met urine-incontinentie. Sinds ongeveer een jaar verliest zij urine als zij aandrang heeft om te plassen. Ze is ongeveer twee keer per dag nat, meestal verliest zij urine op weg naar het toilet. Zij heeft twee keer per jaar een blaasontsteking, dan verliest ze grotere hoeveelheden urine maar met antibiotica gaat de infectie snel weer over. Het urineverlies bij aandrang blijft echter. Zij plast ongeveer 12 maal per dag en drie keer 's nachts. 's Nachts verliest ze soms ook urine. Haar voorgeschiedenis vermeldt 4x vaginale partus en operatie in verband met een HNP, wegens een klapvoet loopt zij met een peroneusveer.

Wat is het meest zinnige deel van lichamelijk onderzoek bij deze patiënte?

- testen van knie en achillespeesreflex en onderzoeken of een clonus kan worden opgewekt  
 het testen van de perianale sensibiliteit en de bulbo cavernosus reflex  
 haar laten hoesten met een volle blaas en observeren of er urineverlies optreedt  
 in speculo kijken of er sprake is van prolaps of hypermobiliteit

---

IF choice c. is selected  
 Set score to 0

Fout.

Juiste antwoord: 'het testen van de perianale sensibiliteit en de bulbo cavernosus reflex'

---

IF choice b. is selected  
 Set score to 1

Goed.

---

IF choice a. is selected  
 Set score to 0

Fout.

Juiste antwoord: 'het testen van de perianale sensibiliteit en de bulbo cavernosus reflex'

---

IF choice d. is selected  
 Set score to 0

Fout.

Juiste antwoord: 'het testen van de perianale sensibiliteit en de bulbo cavernosus reflex'

### 34 of 50

Security Briefing : Briefing

LC : y

Test name : Test 1 or 2

Difficulty : CTT Level

PorterGamGad : include

Welk twee laboratoriumonderzoeken moeten in ieder geval gedaan worden bij een man met secundaire erectiele disfunctie zonder duidelijke oorzaak?

- cholesterol/HDL/LDL
- glucose nuchter
- PSA
- TSH

---

IF choice a. is selected  
AND choice b. is selected  
AND choice c. is NOT selected  
AND choice d. is NOT selected  
Set score to 1

Goed.

---

Anything else  
No score defined.

Fout.

Juiste antwoord:

- cholesterol/HDL/LDL
- glucose nuchter

### 35 of 50

Security Briefing : Briefing

LC : y

Test name : Test 1 or 2

Difficulty : CTT Level

PorterGamGad : include

Een man van 60 jaar komt op het spreekuur voor de controle van zijn bloeddruk. Hij gebruikt hiervoor een bèta-blokker. Hij heeft ook Morbus Parkinson en een angststoornis. De persoon rapporteert seksuele aantrekking tot vrouwen. Hij kijkt drie keer per week gedurende 30 minuten naar porno. Verder heeft hij seks met meerdere personen.

Van welke informatie in deze casus is empirisch aangetoond dat ze samenhangt met seksuele problemen?

- de bèta-blokker
- seks met meerdere personen
- het kijken naar porno

---

IF choice a. is selected  
Set score to 1

Goed.

---

IF choice c. is selected  
Set score to 0

Fout.

Juiste antwoord: 'de bèta-blokker'

---

IF choice b. is selected  
Set score to 0

Fout.

Juiste antwoord: 'de bèta-blokker'

### 36 of 50

Security Briefing : Briefing

LC : y

Test name : Test 1 or 2

Difficulty : CTT Level

PorterGamGad : include

Een vrouw van 34 jaar komt bij de huisarts met onderbuikpijn die sinds 3 dagen bestaat. Ook heeft ze vaginaal bloedverlies. Bij het vaginaal toucher heeft de patiënt slingerpijn.

Welke diagnose is bij deze gegevens het meest waarschijnlijk?

- uterusmyoom
- cervixcarcinoom
- salpingitis (PID)

---

IF choice c. is selected  
Set score to 1

Goed.

---

IF choice a. is selected  
Set score to 0

Fout.

Juiste antwoord: 'salpingitis (PID)'

---

IF choice b. is selected  
Set score to 0

Fout.

Juiste antwoord: 'salpingitis (PID)'

### 37 of 50

Security Briefing : Briefing  
LC : y  
Test name : Test 1 or 2  
Difficulty : CTT Level  
PorterGamGad : include

Een man van 25 jaar komt bij de huisarts met een zelf ontdekte zwelling in zijn scrotum. Bij het lichamelijk onderzoek voelt de huisarts een pijnloze egale zwelling in het scrotum waarbij de testis moeilijk afgrensbaar is. Welk diagnose is het meest waarschijnlijk?

- varicokèle
- epididymitis
- spermatokèle
- hydrokèle

---

IF choice a. is selected  
Set score to 0

Fout.

Juiste antwoord: 'hydrokèle'

---

IF choice c. is selected  
Set score to 0

Fout.

Juiste antwoord: 'hydrokèle'

---

IF choice b. is selected  
Set score to 0

Fout.

Juiste antwoord: 'hydrokèle'

---

IF choice d. is selected  
Set score to 1

Goed.

### 38 of 50

Security Briefing : Briefing  
LC : y  
Test name : Test 1 or 2

Difficulty : CTT Level  
PorterGamGad : include

Het meest bioactieve androgeen is:

- androsteendion
- di-hydrotestosteron
- dehydro-epiandrosteron (DHEA)
- testosteron

---

IF choice d. is selected  
Set score to 1

Goed.

---

IF choice a. is selected  
Set score to 0

Fout.

Juiste antwoord: 'testosteron'

---

IF choice b. is selected  
Set score to 0

Fout.

Juiste antwoord: 'testosteron'

---

IF choice c. is selected  
Set score to 0

Fout.

Juiste antwoord: 'testosteron'

### 39 of 50

Security Briefing : Briefing  
LC : y  
Test name : Test 1 or 2  
Difficulty : CTT Level  
PorterGamGad : include

Wat is een contra-indicatie voor testosteron substitutie therapie bij mannen?

- hartfalen
- LUTS (lagere urineweg symptomen)
- hyperlipidemie
- Diabetes Mellitus

---

IF choice c. is selected  
Set score to 0

Fout.

Juiste antwoord: 'LUTS (lagere urineweg symptomen)'

---

IF choice d. is selected  
Set score to 0

Fout.

Juiste antwoord: 'LUTS (lagere urineweg symptomen)'

---

IF choice a. is selected  
Set score to 0

Fout.

Juiste antwoord: 'LUTS (lagere urineweg symptomen)'



---

IF choice b. is selected  
Set score to 1

Goed.

#### 40 of 50

Security Briefing : Briefing  
LC : y  
Test name : Test 1 or 2  
Difficulty : CTT Level  
PorterGamGad : include

Welke zenuwen maken deel uit van de pelviene plexus

- n. pelvicus en n. pudendus
- n. dorsalis en n. hypogastricus
- n. hypogastricus inf. en n. pelvicus
- n. pudendus en n. hypogastricus sup.

---

IF choice c. is selected  
Set score to 0

Fout.

Juiste antwoord: 'n. pudendus en n. hypogastricus sup.'

---

IF choice d. is selected  
Set score to 1

Goed.

---

IF choice a. is selected  
Set score to 0

Fout.

Juiste antwoord: 'n. pudendus en n. hypogastricus sup.'

---

IF choice b. is selected  
Set score to 0

Fout.

Juiste antwoord: 'n. pudendus en n. hypogastricus sup.'

#### 41 of 50

Security Briefing : Briefing  
LC : y  
Test name : Test 1 or 2  
Difficulty : CTT Level  
PorterGamGad : include

Op basis van effectiviteitsoverwegingen is de typische eerste behandelinterventie voor de ziekte van Peyronie:

- seksuele onthouding voorschrijven
- hormonale behandeling met oxytocine
- zo goed mogelijk de seksuele activiteiten continueren
- chirurgische behandeling

---

IF choice a. is selected  
Set score to 0

Fout.

Juiste antwoord: 'zo goed mogelijk de seksuele activiteiten continueren'

---

IF choice d. is selected  
Set score to 0

Fout.

Juiste antwoord: 'zo goed mogelijk de seksuele activiteiten continueren'

---

IF choice b. is selected  
Set score to 0

Fout.

Juiste antwoord: 'zo goed mogelijk de seksuele activiteiten continueren'

---

IF choice c. is selected  
Set score to 1

Goed.

#### 42 of 50

Security Briefing : Briefing  
LC : y  
Test name : Test 1 or 2  
Difficulty : CTT Level  
PorterGamGad : include

Welke bewering betreffende de peniele anatomie is niet correct?

- Het oppervlakkige veneuze systeem kan in verbinding staan met het diepe dorsale vene systeem
- De efferente innervatie van de penis komt vanuit de n. pudendus
- De efferente innervatie van de penis komt vanuit S1, S2 en S3
- De fascia van Buck bedekt beide corpora cavernosum en corpus spongiosum

---

IF choice b. is selected  
Set score to 0

Fout.

Juiste antwoord: 'De efferente innervatie van de penis komt vanuit S1, S2 en S3'

---

IF choice d. is selected  
Set score to 0

Fout.

Juiste antwoord: 'De efferente innervatie van de penis komt vanuit S1, S2 en S3'

---

IF choice a. is selected  
Set score to 0

Fout.

Juiste antwoord: 'De efferente innervatie van de penis komt vanuit S1, S2 en S3'

---

IF choice c. is selected  
Set score to 1

Goed.

#### 43 of 50

Security Briefing : Briefing  
LC : y  
Test name : Test 1 or 2  
Difficulty : CTT Level  
PorterGamGad : include

Als er een bloedmonster vanuit de penis wordt genomen ten tijde van een ischemisch priapisme zal het volgende gevonden worden bij onderzoek:

- hypokaliaemie ( laag kalium gehalte)
- hypoxie (laag O2 gehalte)
- metabole alkalose
- hypocapnie (laag CO2 gehalte)

---

IF choice c. is selected  
Set score to 0

Fout.

Juiste antwoord: 'hypoxie (laag O2 gehalte)'

---

IF choice b. is selected  
Set score to 1

Goed.

---

IF choice d. is selected  
Set score to 0

Fout.

Juiste antwoord: 'hypoxie (laag O2 gehalte)'

---

IF choice a. is selected  
Set score to 0

Fout.

Juiste antwoord: 'hypoxie (laag O2 gehalte)'

---

#### 44 of 50

Security Briefing : Briefing  
LC : y  
Test name : Test 1 or 2  
Difficulty : CTT Level  
PorterGamGad : include

Wat is geen symptoom van een prolactine producerende hypofyse tumor?

- infertiliteit
  - ejaculatio praecox
  - afgenomen seksueel verlangen
  - erectiele dysfunctie
- 

IF choice a. is selected  
Set score to 0

Fout.

Juiste antwoord: 'ejaculatio praecox'

---

IF choice d. is selected  
Set score to 0

Fout.

Juiste antwoord: 'ejaculatio praecox'

---

IF choice b. is selected  
Set score to 1

Goed.

---

IF choice c. is selected  
Set score to 0

Fout.

Juiste antwoord: 'ejaculatio praecox'

---

#### 45 of 50

Security Briefing : Briefing  
LC : y  
Test name : Test 1 or 2  
Difficulty : CTT Level  
PorterGamGad : include

Emissie en ejaculatie staan onder controle van het:

- parasympatisch zenuwstelsel
- sympathisch zenuwstelsel
- parasympatisch en pudendus systeem
- sympathisch en pudendus systeem

---

IF choice b. is selected  
Set score to 0

Fout.

Juiste antwoord: 'sympathisch en pudendus systeem'

---

IF choice d. is selected  
Set score to 1

Goed.

---

IF choice a. is selected  
Set score to 0

Fout.

Juiste antwoord: 'sympathisch en pudendus systeem'

---

IF choice c. is selected  
Set score to 0

Fout.

Juiste antwoord: 'sympathisch en pudendus systeem'

#### 46 of 50

Security Briefing : Briefing  
LC : y  
Test name : Test 1 or 2  
Difficulty : CTT Level  
PorterGamGad : include

Welke arterie verzorgt het grootste deel van de peniele bloedvoorziening?

- a. epigastrica inf.
- a. gluteus
- a. obturatorius
- a. pudendus int.

---

IF choice b. is selected  
Set score to 0

Fout.

Juiste antwoord: 'a. pudendus int.'

---

IF choice c. is selected  
Set score to 0

Fout.

Juiste antwoord: 'a. pudendus int.'

---

IF choice d. is selected  
Set score to 1

Goed.

---

IF choice a. is selected  
Set score to 0

Fout.

Juiste antwoord: 'a. pudendus int.'

#### 47 of 50

Security Briefing : Briefing

LC : y

Test name : Test 1 or 2

Difficulty : CTT Level

PorterGamGad : include

Welke van de volgende omschrijvingen geeft de beste beschrijving van activerende effecten van geslachtshormonen?

- Lange termijn effecten van hormoonbehandeling op hersenen en gedrag
- Vroege invloed van hormonen op de differentiatie van de hersenen
- Effecten van prenatale hormonen op de hersenen
- Effecten van circulerende hormonen op al bestaande neurale systemen

---

IF choice d. is selected

Set score to 1

Goed.

---

IF choice c. is selected

Set score to 0

Fout.

Juiste antwoord: 'Effecten van circulerende hormonen op al bestaande neurale systemen'

---

IF choice b. is selected

Set score to 0

Fout.

Juiste antwoord: 'Effecten van circulerende hormonen op al bestaande neurale systemen'

---

IF choice a. is selected

Set score to 0

Fout.

Juiste antwoord: 'Effecten van circulerende hormonen op al bestaande neurale systemen'

#### 48 of 50

Security Briefing : Briefing

LC : y

Test name : Test 1 or 2

Difficulty : CTT Level

PorterGamGad : include

De effectiefste behandeling van een primair orgasme probleem bij vrouwen is:

- masturbatietraining
- testosterontoediening
- sekstherapie met het paar
- partnerrelatietherapie

---

IF choice d. is selected

Set score to 0

Fout.

Juiste antwoord: 'masturbatietraining'

---

IF choice a. is selected

Set score to 1

Goed.

---

IF choice b. is selected

Set score to 0

Fout.

Juiste antwoord: 'masturbatietraining'

---

IF choice c. is selected  
Set score to 0

Fout.

Juiste antwoord: 'masturbatietraining'

#### 49 of 50

Security Briefing : Briefing  
LC : y  
Test name : Test 1 or 2  
Difficulty : CTT Level  
PorterGamGad : include

Een 40-jarige vrouw raadpleegt haar huisarts en vraagt of deze een medicijn heeft dat helpt om haar seksueel functioneren te verbeteren. Ze zegt dat ze vroeger nooit problemen heeft gehad: noch bij masturbatie, noch bij vrijen met een partner. Ook in haar huidige partnerrelatie ging het vrijen prima. Daar is echter verandering in gekomen toen ze drie jaar geleden depressief werd. Deze depressie is behandeld met cognitieve gedragstherapie, interpersoonlijke psychotherapie en een Selectieve Serotonine Reuptake Inhibitor. Momenteel is ze niet meer depressief. Veiligheidshalve neemt ze nog steeds de Selectieve Serotonine Reuptake Inhibitor en heeft ze nog steeds follow-up psychologische behandeling. Wat dient op basis van dit klachtenpatroon voorgeschreven te worden?

- een antipsychoticum
- een anxiolyticum
- testosteron
- een fosfodiësterase-5-remmer

---

IF choice a. is selected  
Set score to 0

Fout.

Juiste antwoord: 'een fosfodiësterase-5-remmer'

---

IF choice b. is selected  
Set score to 0

Fout.

Juiste antwoord: 'een fosfodiësterase-5-remmer'

---

IF choice c. is selected  
Set score to 0

Fout.

Juiste antwoord: 'een fosfodiësterase-5-remmer'

---

IF choice d. is selected  
Set score to 1

Goed.

#### 50 of 50

Security Briefing : Briefing  
LC : y  
Test name : Test 1 or 2  
Difficulty : CTT Level  
PorterGamGad : include

Pedofilie is in de Diagnostic and Statistical Manual of Mental Disorders-5 (2013) geclassificeerd als:

- een courtship disorder
- een parafiele stoornis
- een nodige maar onvoldoende voorwaarde voor de diagnose van een parafiele stoornis
- een impulscontrole stoornis

---

IF choice c. is selected  
Set score to 1

Goed.

---

IF choice b. is selected  
Set score to 0

Fout.

Juiste antwoord: 'een nodige maar onvoldoende voorwaarde voor de diagnose van een parafiele stoornis'

---

IF choice a. is selected  
Set score to 0

Fout.

Juiste antwoord: 'een nodige maar onvoldoende voorwaarde voor de diagnose van een parafiele stoornis'

---

IF choice d. is selected  
Set score to 0

Fout.

Juiste antwoord: 'een nodige maar onvoldoende voorwaarde voor de diagnose van een parafiele stoornis'

Feedback  
0% to 100%

Je hebt %SESSION.SCORE% van de %SESSION.MAX% vragen juist beantwoord.

